

7. b kategorija  
7. b kategorija

grupa A




Drniš, 26. i 27. travnja 2025

Ime i prezime: \_\_\_\_\_

1. a) Izgradi intervale na zadanom tonu u smjeru strelice:

16 bodova



s.5 ↑      m.7↓      v.3↑      v.6↓      m.2↑      p.4↓      m.6↑      v.7↓

b) Prepoznavaj i napiši vrstu i veličinu zadanih intervala:


16 bodova



\_\_\_\_\_

2. a) Izgradi kvintakorde ili obrate na zadanim tonovima uzlazno:

10 bodova



M<sub>3</sub><sup>6</sup>

D<sub>4</sub><sup>6</sup>

S<sub>3</sub><sup>5</sup>

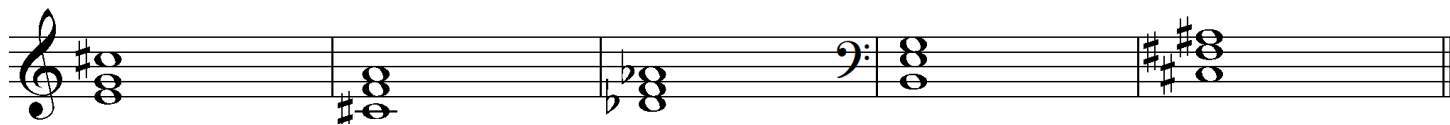
M<sub>4</sub><sup>6</sup>

P<sub>3</sub><sup>6</sup>

## 7. b kategorija

b) Prepoznaj i napiši vrstu kvintakorda ili obrata:

10 bodova



\_\_\_\_\_

3. Napiši enharmonijsku zamjenu (oba tona) zadanog intervala i odredi njihovu veličinu i vrstu:

12 bodova



\_\_\_\_\_

4. Izgradi zadane dominantne septakorde ili obrate u zadanim tonalitetima:

12 bodova



D:  $D_3^4$

es:  $D_2$

G:  $D_7$


c:  $D_5^6$

F:  $D_2$

h:  $D_3^4$

5. Napiši predznake zadanih tonaliteta u violinskom i bas ključu (u oba crtovlja) :

12 bodova



as

Fis

cis

Es

## 7. b kategorija

6. Prepoznaj tonalitet melodijskih primjera:

12 bodova

a)



b)



c)



\_\_\_\_\_od ukupno 100 bodova

Članovi ocjenjivačkog suda:

1. \_\_\_\_\_

2. \_\_\_\_\_

3. \_\_\_\_\_